

## じじもん実力テスト（2018 年 12 月 15 日版）

[制限時間：30 分]

次の表は、2017 年 1 月、自国第一主義を掲げるドナルド・トランプ氏がアメリカ第 45 代大統領に就任してからのアメリカの主な動きを示しています。これを見て、あとの問いに答えなさい。

« 2017 年 »

1 月 TPP から離脱を発表

→翌年、アメリカを除いた  国で①合意文書に署名、2018 年内に発効する予定

1 月 トランプ大統領が新しい入国審査制度の導入を命令

→②難民受け入れの 120 日間停止や、一部の国から入国の 90 日間停止で③空港は混乱

4 月 化学兵器使用への対抗措置として（ A ）に空爆

→ロシアは反発

6 月 ④パリ協定から離脱を表明

→アメリカは世界第  位の二酸化炭素排出量

10 月（ B ）と共に UNESCO からの脱退を発表

→ヨルダン川西岸パレスチナ自治区にある「ヘブロン旧市街」の⑤世界遺産登録に反発

« 2018 年 »

3 月 中国や日本などに対して、鉄鋼製品に 25%、アルミニウム製品に  % の関税を追加で課す

→その後、中国との間で⑥貿易戦争の状況へ

5 月（ C ）核合意から離脱を発表する

→その後、原油禁輸措置など経済制裁の再発動を実施

6 月（ D ）において⑦北朝鮮との間で初の米朝首脳会談を実施

→朝鮮半島の非核化に一定の成果

11 月 アメリカで上院と下院の⑧選挙が行われる

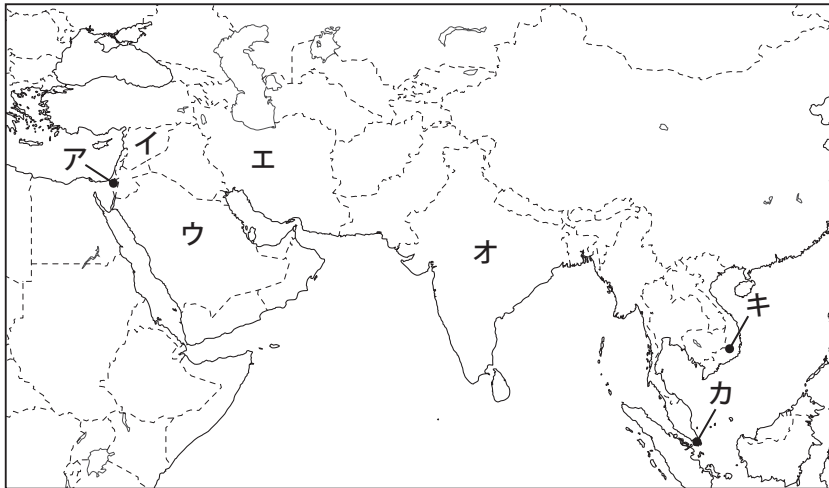
→上院では共和党、下院では民主党が過半数の議席を占める「ねじれ状態」となる

問 1 表中の I ・ II ・ III にあてはまる数字を次から選び、それぞれ答えなさい。

|   |   |   |    |    |
|---|---|---|----|----|
| 1 | 2 | 3 | 10 | 11 |
|---|---|---|----|----|

問 2 表中の ( A ) ～ ( D ) の国について、次の (1) ・ (2) の問いに答えなさい。

(1) 表中の ( A ) ～ ( D ) にあてはまる国の位置を、次の地図中のア～キから 1 つずつ選び、それぞれ記号で答えなさい。



(2) 表中 ( A ) ～ ( D ) の国に関して述べた次のア～オの文のうち、ふさわしくないものを 2 つ選び、記号で答えなさい。

- ア 奈良時代に遣唐使を通じて日本に伝わったものに ( C ) に由来する白瑠璃碗はくろりのわんなどがあり、正倉院宝物となっている。
- イ ( A ) と ( B ) の国境付近にあるゴラン高原に、PKO として日本の自衛隊が 1996 年～ 2013 年まで派遣はけんされていた。
- ウ ( A ) やエジプトなどのアラブ諸国と ( C ) の戦争の影響えいきょうで、日本では 1973 年にオイルショックが起こり、経済が混乱した。
- エ 1942 年、日本はイギリス領だった ( D ) を占領し、軍による統治が行われた。
- オ 2018 年 11 月現在、日本が EPA (経済連携協定れんけい) を結んでいる国は ( B ) と ( D ) である。

問 3 下線部①について、TPP を発効させるには、決められた数以上の国で国内手続きを済ませることが必要です。日本ではその手続きとして TPP 関連法を成立させましたが、もう 1 つ国会で必要な手続きがあります。それは、どのような手続きか簡単に答えなさい。

問4 下線部②について、次の(1)～(3)の問いに答えなさい。

- (1) 2017年、①日本に難民申請した外国人の数と、②実際に難民認定された人数に、もっとも近い数字を、次のア～カからそれぞれ1つずつ選び、記号で答えなさい。

ア 2人 イ 20人 ウ 200人 エ 2000人 オ 20000人 カ 200000人

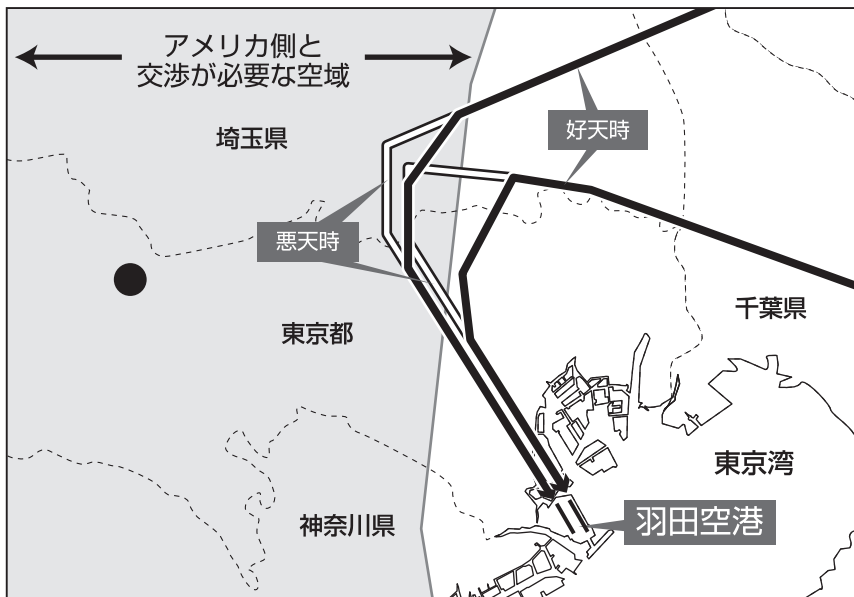
- (2) ミャンマーで発生している難民問題について説明した次の文中の「あ」～「え」にあてはまる語句をそれぞれ答えなさい。

ミャンマー西部のラカイン州には、「あ」と呼ばれる「い」教を信仰する少数民族が生活しています。しかし、その多くが軍部などの弾圧を受けて、隣国である「う」へ逃れています。ミャンマー政府の国家顧問である「え」による解決が期待されていますが、未だ状況は改善されていません。

- (3) 難民問題の解決のために活動するUNHCRでも働いたことがあり、現在は国連事務次長として軍縮担当上級代表を務める日本人の名前を答えなさい。

問5 下線部③について、羽田空港は2020年の東京オリンピック・パラリンピックで外国からの訪日客が増加することをみこして、新たなルートを設定を検討しています。これについて、次の(1)・(2)の問いに答えなさい。

- (1) 次の地図は羽田空港が想定する新ルート（南風の時）を表しています。しかし、このルートを実現するにはアメリカとの交渉が必要でした。その原因となった地図中の●にある施設の名前を答えなさい。



平成30年11月4日付読売新聞朝刊1面の図をもとに作成

- (2) 羽田空港が想定する新ルート（南風の時）の実現には様々な対策が必要となります。その対策が不十分だと、ルート周辺のあるものの価格が下落する可能性も指摘されています。あるものとは何か、漢字3字で答えなさい。

問6 下線部④では、「プレッジ・アンド・レビュー」という方式を採用して温室効果ガスの削減<sup>さくげん</sup>を目指しています。この方式について述べた次の文中の「あ」～「う」にあてはまる語句や内容を答えなさい。

この方式は、各国が自主的に削減目標を掲げる（プレッジ）ことができるため、発展途上国にも受け入れやすいといった長所がある一方で、各国が削減目標を必要以上に「あ」たり、最終的に「い」たりといった可能性のあることが短所として指摘されています。そのため、各国は進捗<sup>しんちよく</sup>状況の情報を定期的に提供し、「う」による評価（レビュー）を受けることが定められており、各国は5年ごとに目標を更新して提出することとされています。

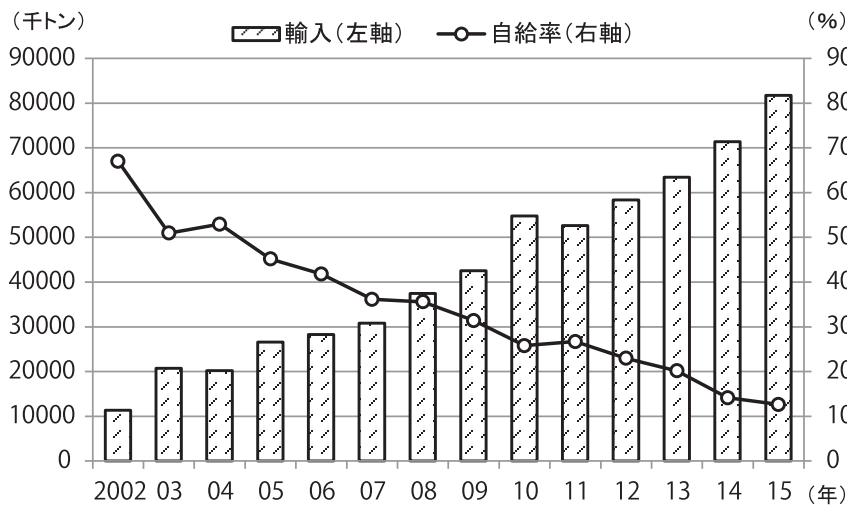
問7 下線部⑤について、次の(1)～(3)の問いに答えなさい。

- (1) 2018年に日本から登録された世界文化遺産の名前を、解答らんに合わせて漢字で答えなさい。
- (2) (1)の構成資産の1つである大浦天主堂は、フランス人の礼拝堂<sup>れいはいどう</sup>として1865年長崎に建立されました。この教会堂は、1596年に豊臣秀吉の命令で実行されたある出来事が起こった場所に向かって建てられています。ある出来事とは何か、答えなさい。
- (3) 幕末の禁教政策が続いているなか、大浦天主堂などの教会が長崎や横浜、函館などに建設された理由を簡単に説明しなさい。

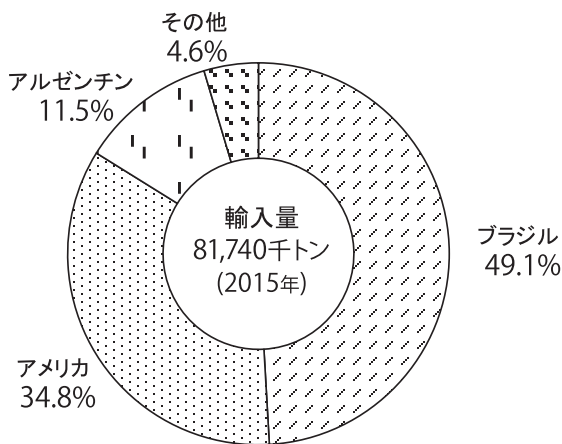
問 8 下線部⑥について、現在、アメリカと中国は互いに多くの品目について高い関税をかけ合うという状況になっています。これに関して、次の (1)・(2) の問いに答えなさい。

(1) 相手国の製品や農産物に高い関税をかける目的は、国内産業を保護することにあります。かえって、この高関税が自国の国民にとって不利益になることもあります。中国がアメリカ産大豆の関税を引き上げることを例に、その不利益とはどのようなものか、次の資料 I・資料 II を参考に説明しなさい。

資料 I 中国の大豆輸入量と自給率の推移



資料 II 中国の大豆輸入相手国別割合



上記 2 点の出典 農林水産省ホームページ 主要国の農業情報調査分析報告書 (平成 27 年度)  
 → [http://www.maff.go.jp/j/kokusai/kokusei/kaigai\\_nogyo/k\\_syokuryo/h27.html](http://www.maff.go.jp/j/kokusai/kokusei/kaigai_nogyo/k_syokuryo/h27.html)  
 の情報をもとに作成

(2) 貿易戦争に関連して、次の i～iii の文の正誤としてふさわしいものを、あとのア～クから 1 つ選び、記号で答えなさい。

- i 第二次世界大戦勃発<sup>ぼつぱつ</sup>の原因の 1 つとして、「ブロック経済」と呼ばれる保護主義によって世界恐慌<sup>きょうこう</sup>を脱しようとしたフランスやイギリスなどの帝国主義諸国の動きがあった。
- ii 不公正な貿易を是正<sup>ぜいせい</sup>し、自由貿易を推進する機関である WTO が 1995 年から発足しているが、近年その役割を果たしきれていない状況がある。
- iii 平成時代に入ると、自動車をめぐって日本とアメリカの貿易上の対立がはじまり、それを回避<sup>かいひ</sup>するために日本は自動車工場をアメリカに移し、自主的に輸出を制限するようになった。

|     | ア | イ | ウ | エ | オ | カ | キ | ク |
|-----|---|---|---|---|---|---|---|---|
| i   | 正 | 正 | 正 | 正 | 誤 | 誤 | 誤 | 誤 |
| ii  | 正 | 正 | 誤 | 誤 | 正 | 正 | 誤 | 誤 |
| iii | 正 | 誤 | 誤 | 正 | 正 | 誤 | 正 | 誤 |

問 9 下線部⑦について述べた文としてふさわしくないものを、次のア～オから 2 つ選び、記号で答えなさい。

- ア 韓国の文在寅<sup>ムンジェイン</sup>大統領と北朝鮮の金正恩<sup>キムジョンウン</sup>朝鮮労働党委員長との初めての首脳会談は、北緯 38 度線付近にある板門店<sup>パンムンジョム</sup>で行われた。
- イ 1953 年に朝鮮戦争の休戦協定が結ばれて以降、北緯 38 度線付近の軍事境界線は現在においても存在し、その時に離れ離れになった家族が自由に会えない状況がある。
- ウ 米朝首脳会談の結果、北朝鮮の核開発放棄<sup>ほうき</sup>に向けた工程が明確に決まり、その代わりに、アメリカは現在の北朝鮮の国家体制の維持を保証した。
- エ 北朝鮮による日本人の拉致<sup>らち</sup>問題は、米朝首脳会談の場でも触れられることはなく、まだ解決にはいたっていない。
- オ 北朝鮮から日本へミサイルが発射されたときには、Jアラートが作動し、総務省消防庁を通じて、該当地<sup>がいたう</sup>域の市区町村の防災行政無線が、住民に情報を伝える。

問 10 下線部⑧について、2018 年 7 月には日本の参議院通常選挙で定数を 6 増やす（埼玉県選挙区の定数を 2 増、比例代表の定数を 4 増）改正公職選挙法が成立しました。これに関して、次の (1)～(3) の問いに答えなさい。

- (1) 埼玉県選挙区の定数を 2 増した理由を答えなさい。
- (2) 現在、参議院の選挙区選挙では、2 県を合わせて 1 つの選挙区とする合区が 2 選挙区 4 県で行われています。この 2 選挙区の県の組み合わせを、解答らんに合わせて漢字で答えなさい。
- (3) 今回の法改正では、比例代表制において、政党が決めた順位に従い当選者を決める「特定枠」も設けられます。この「特定枠」を使い、選挙区に候補者を擁立できない合区の県からも確実に議員を出し、地方の意見を国に届けるべきという考えがありますが、一方で、それは憲法の考えに沿ったものではないという意見もあります。二重下線部の意見の根拠を、次の憲法の条文を参考にして答えなさい。

第 43 条 1 項 両議院は、全国民を代表する選挙された議員でこれを組織する。

問 11 表にあるようなトランプ氏の政策とは正反対の政策が、かえって、トランプ氏が言う自国第一主義にかなうこともあるのではないかという意見があります。この意見の根拠について、表にあるトランプ氏の政策と正反対の政策を 1 つ具体的に挙げたうえで、次の例のように説明しなさい。

例) ユネスコから脱退しない。ユネスコは各国の文化の発展・交流などを図りながら世界の平和を目指す機関だから、もしユネスコの運営などに問題が生じたとしても、ユネスコの中にとどまって他国と話し合いなどを重ねていくことで、他国からのアメリカに対する信頼感が増し、アメリカも含めた世界全体の平和にもつながると思う。

# じじもん実力テスト (2018 年 12 月 15 日版)

|             |    |    |
|-------------|----|----|
| <b>解答用紙</b> | 氏名 | 点数 |
|-------------|----|----|

配点 各 4 点× 25 計 100 点

注: 下線部は要完答

問 1    I     II     III

---

問 2    (1) A     B     C     D

---

(2)

問 3

問 4    (1) ①     ②

---

(2) あ

い

う

え

(3)

問 5    (1)

(2)

問 6    あ

い

う

問 7    (1) 「  と  地方の  キリシタン関連遺産」 (順指定)

---

(2)

(3)



問 8 (1)

(2)

問 9

問 10 (1)

(2)

県と  県 (順不同)、 県と  県 (順不同)

(3)

問 11