

じじもん実力テスト（夏休み特別企画版）

[制限時間 :30 分]

次の各文章は、2021 年 3 月から 6 月の「じじもんスクラム今週のチェック記事」の内容の抜粋です。これらを読んで、あとの問 1～問 21 に答えなさい。

3 月 2 日（火） 減り行く公衆電話 未来は？

みなさんは公衆電話を使ったことがありますか。携帯電話の普及により、最近見かけなくなった公衆電話ですが、災害時には優先的につながり、状況によっては無料で使えることもあります。万が一に備えて、設置場所や①使い方を家族で確認しておくといよいでしょう。

問 1 下線部①について、通常時における公衆電話の使い方として正しい順番になるように、次のア～ウを並びかえて、記号で答えなさい。

ア 数字のボタンで電話番号を押す

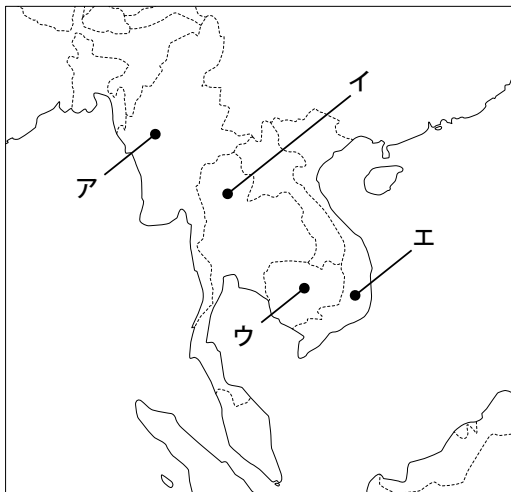
イ 硬貨かテレホンカードを入れる

ウ 受話器を上げる

3 月 3 日（水） ASEAN デモ流血「懸念」

②ミャンマーでは、2 月 1 日の軍によるクーデターの後、民政回復を求める国民のデモが激しさを増しています。政権のトップであった③アウンサンスーチー氏は複数の罪で訴追され、軍によって拘束されています。このような事態に対して、ミャンマーなど 10 か国が加盟する東南アジア諸国連合（ASEAN）の外相会議でどのような声明が出されたのか、記事を確認してみてください。

問 2 ミャンマーの位置として正しいものを、次の地図中のア～エから 1 つ選び、記号で答えなさい。



問3 下線部③に関して、この人物は軍事政権に対する非暴力での民主化運動により、かつてノーベル平和賞を受賞しました。次のア～エのうち、ノーベル平和賞を受賞していない人物に関する文を1つ選び、記号で答えなさい。

ア ウッドロウ・ウィルソンは第一次世界大戦後、国際連盟創設のために努力した。

イ ネルソン・マンデラは南アフリカ共和国のアパルトヘイト終結に尽力した。

ウ クーベルタン男爵は平和の祭典として近代オリンピックの創設を提唱した。

エ キング牧師はアメリカで黒人差別の撤廃を訴える公民権運動を指導した。

3月11日(木) 津波被災地インフラ膨張

2万2000人を超す死者・行方不明者を出した④東日本大震災から11日で10年となります。津波で被災した岩手、宮城、福島3県で高台や内陸への集団移転のための宅地開発が行われましたが、それにもなつて(⑤)の総延長が大幅に増加していることを伝えています。一方、被災地の人口減は加速しており、インフラの維持管理費の負担が今後被災地の自治体に重くのしかかる点が心配されています。

3月12日(金) 東日本大震災10年 「あの時」刻み生きる

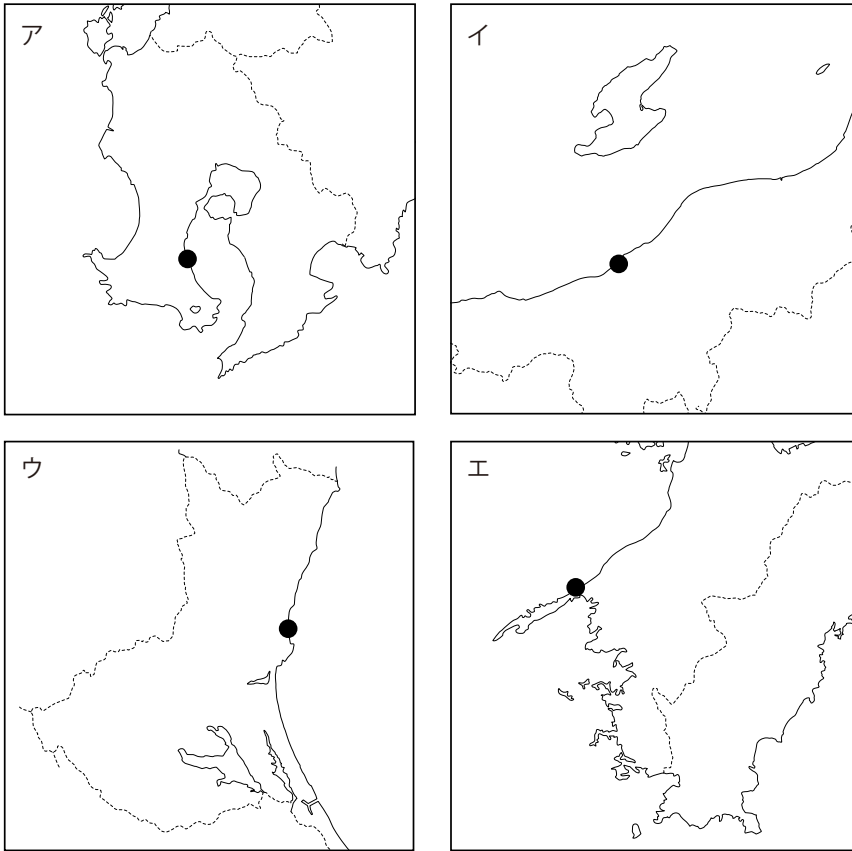
2万2200人もの死者・行方不明者を出した東日本大震災から11日で10年となりました。今も4万1241人が避難生活を送り、東京電力福島第一⑥原発事故が起きた福島には、避難指示が解除されない地域があります。被災者の思いに寄り添いたいと思います。

問4 下線部④について、次の文中の空らん【 X 】・【 Y 】にあてはまる言葉を、それぞれ漢字2字で答えなさい。

東日本大震災からの【 X 】を目的として、2012年に【 X 】庁が設置された。この庁は【 Y 】の下に2031年3月31日までの期間限定で置かれている行政機関である。

問5 空らん(⑤)の中に入るインフラを1つ答えなさい。

問6 下線部⑥について、次のア～エの地図のうち、日本の原子力発電所の位置としてまちがっているものを1つ選び、記号で答えなさい。



3月16日(火) かんがい大国 ニッポン

⑦日本には、国際機関が認定する「世界かんがい施設遺産」が42もあります。これは全遺産の4割弱を占め、各国で最多となっております。かんがい（灌漑）は、人工的に水を引き、農作物が育つ環境を整えることです。降水量が多く、水が豊富に見える日本がなぜ認定数最多なのか、記事から確認しましょう。2019年にアフガニスタンで武装集団に銃撃されて亡くなった医師、⑧中村哲さんの取り組みも紹介されています。

問7 下線部⑦について、次の(1)・(2)の問いに答えなさい。

(1) 日本各地の「世界かんがい施設遺産」についての説明として正しいものを、次のア～エから1つ選び、記号で答えなさい。

- ア 那須疏水は鬼怒川の上流部から那須野原に水を送っている。
- イ 安積疏水は阿武隈川の中流部から郡山盆地に水を送っている。
- ウ 明治用水は木曾川の中流部から岡崎平野に水を送っている。
- エ 見沼代用水は利根川の中流部から関東平野西部に水を送っている。

- (2) 「世界かんがい施設遺産」には、満濃池などのため池も登録されていますが、近年、香川県など瀬戸内海沿岸のため池では、その水面を利用して再生可能エネルギーを生み出す新たな活用法が注目されています。これらの地域の気候の特色をふまえて、その活用法を説明しなさい。

- 問 8 下線部⑧について、中村哲さんはアフガニスタンで「100 の診療所より 1 本の用水路を」という考えのもと、およそ 25km にわたる用水路を開通させ、干ばつにより砂漠化した土地の緑化を実現しました。なぜ医師の中村哲さんはこのような活動を行ったと思いますか。説明しなさい。

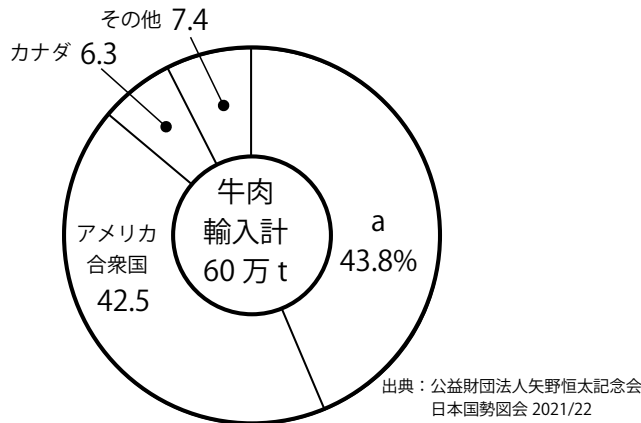
3月18日(木) 米産牛肉 関税 38.5% に

政府は、アメリカ産牛肉に対する、(⑨) = 緊急輸入制限を 18 日に発動し、関税を 25.8% から 38.5% に引き上げると発表しました。関税とは何か、(⑨) とは何か、説明できるようにしましょう。また、今回の (⑨) の発動はアメリカ産牛肉の輸入量が想定以上に増え、基準を超えたことが要因です。なぜ⑩アメリカ産牛肉の輸入量が増えたのか、記事から読み取ってみましょう。なお、対象期間が 4 月 16 日までの 30 日間と限られることなどから、消費者への影響は抑えられそうです。

- 問 9 空らん (⑨) にあてはまる言葉をカタカナで答えなさい。

問 10 下線部⑩について、次のグラフは日本の牛肉の輸入相手国を示しています。日本が牛肉をもっとも多く輸入している a 国の説明として正しいものを、あとのア～エから 1 つ選び、記号で答えなさい。

日本の牛肉の輸入先 (2020 年)



- ア 1908 年にコーヒー農園の労働者として日本からの移民が始まり、現在では日系人がもっとも多く居住する国である。
- イ 核兵器廃絶国際キャンペーン (ICAN) の母体が設立された国であるが、日本同様、2021 年 1 月に発効した核兵器禁止条約に参加していない。
- ウ 返還後も「一国二制度」を認めてきた香港に対して、2020 年 6 月に香港国家安全維持法を施行し、影響力をより強めている。
- エ 2014 年のクリミア半島の併合以降も、隣国ウクライナの東部をめぐって軍事的な緊張が続いている。

3 月 27 日 (土) 106 兆円新年度予算

2021 年度予算が 26 日、(⑩) 本会議において賛成多数で可決し成立しました。一般会計の総額は 106 兆 6097 億円で、9 年連続で過去最高を更新しました。税収は 57 兆 4480 億円で、当初予算としては 11 年ぶりに減り、その一方で、新規国債 (国の借金) の発行額は 43 兆 5970 億円で、7 年ぶりに 40 兆円を超えました。どのようなものにどれくらいの予算が組まれているのか、また、その背景は何か、記事から読み取りましょう。

問 11 空らん (⑩) にあてはまる議院の説明としてまちがっているものを、次のア～キから 3 つ選び、記号で答えなさい。

- ア 良識の府と呼ばれる。
- イ 議員の任期が 4 年で、被選挙権年齢は 25 歳以上である。
- ウ 次の選挙のあと、選挙区選出の議員は 148 人になる。
- エ 選挙区選挙と比例代表選挙への重複立候補が認められる。
- オ 女性議員の割合は 20% ほどである。
- カ 国会の開会式が行われる。
- キ 国会議事堂の正面に向かって左側にある。

4月6日(火) 70歳就労 環境整備急務

⑫ 70歳までの就労機会確保を企業の努力義務とした改正高年齢者雇用安定法が1日、施行されました。これまでは企業に対し、65歳までの希望者全員の雇用を義務化していましたが、新制度ではさらに70歳までの就業機会の確保を努力義務としました。この制度実施の背景やねらいは何でしょうか。また、70歳まで雇用を継続することによる企業のメリット、デメリットについても考えてみましょう。

問12 下線部⑫について、次の(1)・(2)の問いに答えなさい。

- (1) 現在、一般的な企業の定年は何歳ですか。4月6日の文全体を参考にして答えなさい。
- (2) このように高齢者の雇用機会を広げていくことは、少子高齢化が進む日本の社会においてどのようなメリットがありますか。説明しなさい。

4月13日(火) 中2の6% 介護や家事

みなさんは「(⑬)」という言葉聞いたことがありますか。「(⑬)」とは、親やきょうだいの介護や家事に追われる若年層^{じやくねんそう}のことで、厚生労働省が初の全国的な実態調査をおこなったところ、中学2年の6%、高校2年の4%がそれに該当^{がいたう}すると発表しました。家族の世話にかかる時間は1日平均で4時間に上り、勉強^{すいみん}や睡眠時間の不足を訴える声も浮かびあがりました。また、(⑬)の約6割は学校などに相談した経験がないようです。相談体制の強化が求められています。


問13 空らん(⑬)にあてはまる言葉をカタカナ7字で答えなさい。

4月21日(水) スエズ運河 代替路探る

世界の物流の大動脈である⑭スエズ運河(エジプト)で先月、大型貨物船が座礁した事故は、一時400隻を超える船舶が運河周辺で足止めになり、海上輸送に伴うリスクを改めて浮き彫りにしました。日本と欧州を結ぶ輸送ルートには、スエズ運河を通る南回りルート、⑮北極海を通るルート、ウラジオストクからシベリア鉄道を活用するルートがあります。距離的にはどれが一番短いのでしょうか。輸送費はどれが安いのでしょうか。時間的にはどれが一番早く着くのでしょうか。

問14 下線部⑭について、次の(1)・(2)の問いに答えなさい。

- (1) 次の図は緯度0°から北緯45°までと、経度0°から東経45°までを示しています。図中のア～エのうち、スエズ運河の位置としてふさわしいものを1つ選び、記号で答えなさい。



- (2) スエズ運河を通ったことのある人物として正しいものを、次のア～エから1人選び、記号で答えなさい。

ア 岩倉具視 イ シーボルト ウ 支倉常長 エ ペリー

問15 下線部⑮について、スエズ運河を通るルートと比較して、北極海を通るルートのコスト面における有利な点と不利な点をそれぞれ簡単に説明しなさい。

4月23日（金） 温室ガス「(⑩) % 削減」

アメリカ主権の気候変動問題に関する首脳会議がオンライン形式で開催したことを伝えています。各国首脳らが演説し、日本の菅義偉首相は、2030年度までに温室効果ガスを2013年度比で(⑩) %削減すると新たな目標を表明しました…【中略】…政府は昨年10月に、2050年までに⑪温室効果ガス排出量の実質ゼロを実施する方針も示しています。そもそも地球温暖化対策の国際的な枠組みである「⑫パリ協定」で目標としていることは何でしょうか。また、その達成のための各国の目標値を記事から確認してみてください。

問16 空らん (⑩) にあてはまる数値を、次のア～エから1つ選び、記号で答えなさい。

ア 6 イ 26 ウ 46 エ 66

問17 下線部⑪について、2050年までに二酸化炭素排出量の実質ゼロをめざすことを公表した地方自治体を一般に何というか、カタカナ9字で答えなさい。

問18 下線部⑫について、パリ協定を説明した次のⅠ～Ⅲの正誤の組み合わせとしてふさわしいものを、あとのア～クから1つ選び、記号で答えなさい。

- Ⅰ 地球の平均気温の上昇を産業革命前と比べて2℃より低く保ち、できれば1.5℃に抑える努力を追求するよう定めた取り決めである。
- Ⅱ 加盟国は削減目標を自主的に作成できる一方、その削減目標を5年ごとに提出・前進させることが定められている。
- Ⅲ アメリカは温暖化対策に消極的な前大統領時に離脱したが、大統領が民主党のバイデン氏に代わったことで、正式に復帰した。

ア Ⅰ：正 Ⅱ：正 Ⅲ：正 イ Ⅰ：正 Ⅱ：正 Ⅲ：誤 ウ Ⅰ：正 Ⅱ：誤 Ⅲ：正
 エ Ⅰ：正 Ⅱ：誤 Ⅲ：誤 オ Ⅰ：誤 Ⅱ：正 Ⅲ：正 カ Ⅰ：誤 Ⅱ：正 Ⅲ：誤
 キ Ⅰ：誤 Ⅱ：誤 Ⅲ：正 ク Ⅰ：誤 Ⅱ：誤 Ⅲ：誤

5月18日(火) ⑱建設石綿 国と和解へ

建材用のアスベスト(石綿)で健康被害を受けた元建設労働者らが、国と建材メーカーに損害賠償^{ばいしょう}を求めていた「建設アスベスト集団訴訟」で、最高裁判所は国と建材メーカーの賠償責任を認める判断を下しました。国が1975年から2004年の期間、作業員らに防じん(A)の着用などを義務付けなかった点を(B)としたわけです。

アスベスト(石綿)とは極めて細い繊維状^{せんい}の(C)で、(D)や摩擦^{まさつ}などに強いうえに軽く、(E)などの建材などに幅広く使われてきましたが、それを吸い込むことで(F)などの病気の原因にもなります。吸い込んでから15年～50年後に発症することもあり「静かな(G)」ともいわれています。

この判決を受け、(H)は症状などに応じて1人最大1300万円の和解金などを支払うことに合意し、菅首相は(I)団らに謝罪をしました。

問19 下線部⑱に関して、空らん(A)～(I)のいずれにもあてはまらない言葉を、次のア～ケから2つ選び、記号で答えなさい。

- ア 鉱物 イ 被告 ウ 断熱材 エ 時限爆弾 オ マスク カ 熱
- キ 違法^{いはう} ク 各都道府県 ケ がん

6月7日(月) 木材価格4倍 ⑳ウッドショック

北米などで木材の価格が急騰^{きゅうとう}しています。「ウッドショック」とも呼ばれ、国内でも住宅価格の上昇や工期^{おくとく}の遅れ、家具にも値上げの動きなど、消費者への影響も出始めています。木材価格が上昇しているのはなぜでしょうか。また、国産材^{じゅよう}の需要が高まっているものの、すぐに需要増に対応するのは難しい^{むずか}ようです。それはなぜなのでしょう。

問20 下線部⑳について、ウッドショックが起こっている理由の説明としてまちがっているものを、次のア～エから1つ選び、記号で答えなさい。

- ア アメリカで、リモートワークの広がりもあり、郊外への転居の増加などで住宅を建てる需要が高まっているため。
- イ 巣ごもり需要によりコンテナの物流が増大する一方、新型コロナの影響で船員の人手不足も生じていて、木材^{うんぱん}を運搬する際のコストも増大しているため。
- ウ 近年日本国内では林業^{にな}の担い手不足が続いており、国産材の流通^{きゅううげき}を急激に増やすことが難しいため。
- エ 木材の輸入依存^{いぞん}度が4割ほどになっている現状では、海外需要が急激に増えると、輸入量が一気に少なくなり、オイルショックの時と同じようになってしまうため。

6 月 24 日（木） 夫婦別姓 再び認めず

みなさんは夫婦で異なる姓を名乗ることに対してどう思いますか。②夫婦別姓を認めない民法や戸籍法の規定が「両性の平等」などを保障した日本国憲法に違反するかが争われた裁判で、最高裁判所は「合憲」との判断を示す決定をしました。最高裁が現状の同姓規定を合憲としたのは、2015 年の判決に続いて 2 度目となります。少し難しいですが、今回の決定のポイントや、夫婦別姓に対する賛成・反対などそれぞれの主張を記事から読み取りましょう。

- 問 21 下線部②について、民法 750 条は、「夫婦は、婚姻の際に定めるところに従い、夫又は妻の氏を称する。」と規定しています。今回、最高裁判所はこの規定について憲法に違反しないと判断しました。この判断の根拠となる文を、次のア～ケから 3 つ選び、記号で答えなさい。
- ア 旧姓を通称として使用できる場は増えているが、すべてではない。
 - イ 家族の一体感を重視する考え方に合理性はある。
 - ウ 民法は、夫婦になろうとする人に一律の扱いをしている。
 - エ 現状、夫の姓を選択する夫婦が多数を占めている。
 - オ 夫婦の姓についてどのような政策をとるかは国会で論じられるべきことである。
 - カ 憲法 24 条には、婚姻は両性の合意のみに基づいて成立する、とある。
 - キ 生来の氏名は憲法 13 条で保障される人格権の 1 つであり、これを重視するべきである。
 - ク 民法 750 条のように法律で夫婦の同姓を義務付ける国はほとんどない。
 - ケ 世論調査によると選択的夫婦別姓制度に賛成の人が近年増加している。

じじもん実力テスト (夏休み特別企画版)

解答用紙	氏名	点数
-------------	----	----

配点 各4点×25 計100点

注:下線部は要完答

問1 → →
(順指定)

問2

問3

問4 X Y
(漢字2字指定)

問5

問6

問7 (1) (2)

問8

問9
(カタカナ指定)

問10

問11
(順不同)

問12 (1) 歳

(2)

問13
(カタカナ7字指定)

問14 (1) (2)

問 15 有利な点

不利な点

問 16

問 17

--	--	--	--	--	--	--	--	--	--

(カタカナ 9 字指定)

問 18

問 19

--	--

(順不同)

問 20

問 21

--	--	--

(順不同)