

## じじもん実力テスト（夏休み版）

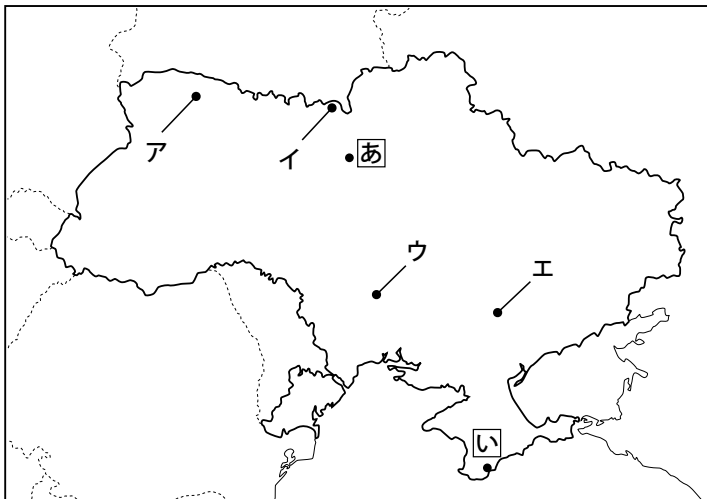
[制限時間 :30 分]

次の各文章は、2022 年 5 月までの「じじもんスクラム今週のチェック記事」の内容の抜粋です。これらを読んで、あとの問 1～問 20 に答えなさい。

### 2 月 25 日（金）露、ウクライナ侵攻

ロシアのプーチン大統領は 24 日午前 6 時（日本時間 24 日正午）頃、ロシア国営テレビを通じて緊急演説し、ウクライナで「軍の特殊作戦を実施する」と表明しました。①ロシア軍は直後からウクライナ各地へ攻撃を始め、米欧は全面的な侵攻を強く非難しています。プーチン大統領はこれに先立ち、ウクライナ東部で親ロシア派武装集団が実効支配する地域を独立国家として一方的に承認しています。現場の様子、国際社会の動き、②日本への影響などについて、周囲の人と話をしてみましょう。毎日の報道を注視し、今ウクライナで何が起きているのか確認してください。

問 1 下線部①と関連する次の地図について、あとの (1)～(3) の問いに答えなさい。



- (1) ロシア軍は一時、原子力発電所も占拠しました。1986 年の大規模な事故にともない現在廃炉中の原子力発電所を、地図中のア～エから 1 つ選び、記号で答えなさい。
- (2) 地図中のアはウクライナの首都でかつて「キエフ」と呼ばれていましたが、政府によって日本語呼称が「キーウ」に変更されました。その理由を説明しなさい。

(3) 地図中の【イ】でかつて開かれた首脳会談の説明としてふさわしいものを、次のア～エから 1 つ選び、記号で答えなさい。

- ア アメリカとソ連の両首脳によって、冷戦の終結を確認した。
- イ 日本の無条件降伏と、日本の主権がおよぶ範囲の限定をかかげた。
- ウ ドイツの降伏後 3 か月以内にソ連が対日参戦することが決まった。
- エ 国際連盟の設立と、日本が山東省におけるドイツ権益を引き継ぐことを決定した。

問 2 下線部②について、日本へのさまざまな影響を説明した文としてふさわしくないものを、次のア～オから 2 つ選び、記号で答えなさい。

- ア 日本の小麦輸入量のうち約 20% がロシアとウクライナからのもので、小麦の国内販売価格は高騰している。
- イ 日本企業が近年ヨーロッパとの貿易の際に利用してきたシベリア鉄道による陸上輸送が停止した。
- ウ 日本とヨーロッパを結ぶ航空便は、ルート変更が強いられているため、従来に比べ飛行時間が長くなる路線もある。
- エ 1956 年に結ばれた日ソ共同宣言に定められている、平和条約締結後の北方 4 島返還約束が破棄された。
- オ 30 年前から始まった、日本人と北方 4 島に住むロシア人がビザの発給を受けずにおこなう相互訪問が停止された。

### 2 月 27 日 (日) 農産物輸出 1 兆円超え

③ 2021 年の農林水産物・食品の輸出額が前年比 25.6% 増の 1 兆 2385 億円となり、「年間 1 兆円」を初めて突破しました。新型コロナウイルスの感染拡大で、各国で④内食向けの小売店やインターネットによる販売が拡大しましたが、どのような品目の輸出額が増えたのか、記事から確認してみてください。

問 3 下線部③について、次の表は農林水産物・食品の輸出金額上位 5 位を示しています。表中の空欄【 】にあてはまる品目を、あとのア～エから 1 つ選び、記号で答えなさい。

品目	輸出金額
【 】	1147 億円
ホタテ貝	639 億円
牛肉	537 億円
ソース混合調味料	435 億円
清涼飲料水	406 億円

農林水産物輸出入概況 2021 年 (農林水産省)  
<https://www.maff.go.jp/j/tokei/kouhyou/kokusai/attach/pdf/index-102.pdf> をもとに作成

- ア 米
- イ 真珠
- ウ りんご
- エ アルコール飲料

問4 下線部④について、「肉食」とは家で素材から調理したものを食べることを意味しています。それでは、お弁当やお惣菜そうざいを買って帰り、家で食べることを一般に何といいますか。漢字2字で答えなさい。

3月3日(木) 水平社100年 尊厳求めて

人間の尊厳と平等を求める「⑤水平社宣言」が、被差別部落出身の人たちによって読み上げられてから、3日で100年となります。これまでに差別や偏見は解消に向かってきましたが、根絶には至いたっておらず、性や国籍こくせきをめぐる差別も起きています。日本初となる人権宣言の内容や出された背景、意義などを記事から読み取ってみましょう。

問5 下線部⑤について、次の(1)(2)の問いに答えなさい。

(1) 水平社宣言が読み上げられた年と同じ年の出来事を、次のア～エから1つ選び、記号で答えなさい。

- ア 青鞆社せいとうが結成された。                      イ 関東大震災が起こった。  
ウ ソビエト連邦が成立した。                      エ 普通選挙法が公布された。

(2) 水平社宣言に関連して、次の条文は日本国憲法第14条第1項です。条文中の空欄【 I 】～【 V 】のいずれにもあてはまらない言葉を、あとのア～カから1つ選び、記号で答えなさい。

すべて国民は、法の下に平等であって、【 I 】, 【 II 】, 【 III 】, 【 IV 】, 又は【 V 】により、政治的、経済的又は社会的関係において、差別されない。

- ア 性別      イ 門地もんち      ウ 信条      エ 社会的身分      オ 栄典      カ 人種

### 3月5日(土) ( ⑥ ) パラ開幕

第13回冬季パラリンピック( ⑥ )大会は4日、開幕しました。ロシアのウクライナへの侵攻が続く中、国際パラリンピック委員会(IPC)はロシアと同国を支援する( ⑦ )の選手の個人資格での出場を一度は容認しましたが、多くの選手団や選手の反発を受けて4日に一転して認めない決定を下しました。刻々と動く国際情勢の中で「平和の祭典」がおこなわれます。

問6 空欄( ⑥ )にあてはまる地域の説明としてふさわしいものを、次のア～オから2つ選び、記号で答えなさい。

- ア 世界で3番目に長い河川である長江の河口に位置している。
- イ 日本の佐渡島を通る北緯38度の緯線が通過する。
- ウ 元王朝のフビライ・ハンが造営した大都の地にある。
- エ 郊外での発砲事件をきっかけに日中戦争が勃発した。
- オ 満州国建国時には、この都市を中心とした満州全域を日本が支配した。

問7 空欄( ⑦ )にあてはまる国としてふさわしいものを、次のア～エから1つ選び、記号で答えなさい。

- ア ジョージア
- イ ベラルーシ
- ウ モルドバ
- エ リトアニア

### 3月12日(土) 東日本大震災11年 祈り 浮かぶ面影

2万2000人を超える死者・行方不明者を出した東日本大震災は、11日で⑧発生から11年となりました。地震発生時刻の午後2時46分、失われた命に思いをはせながら各地で鎮魂の祈りがささげられました。避難者は今も3万8139人にのぼり、⑨復興への課題は山積しています。被災された方々の思いに寄り添い、記事を読んで感じたことをぜひご家族や友人たちと話し合ってみましょう。

問8 下線部⑧について、この11年間の出来事を説明した文としてふさわしくないものを、次のア～エから1つ選び、記号で答えなさい。

- ア 震災からの復興を目的につくられた復興庁の設置期間は当初、震災から10年とされたが、復興事業はまだ道半ばであるとされ、2031年3月31日まで延長された。
- イ 震災後多くの原子力発電所が停止したが、若狭湾沿岸の川内、大飯、高浜原発などは原子力規制委員会の厳しい審査に合格して再稼働を果たしている。
- ウ 過去に地震、噴火、水害などで被災した人々が後世にそれを伝えるために建てた自然災害伝承碑の価値が改めて見直され、それを表す新たな地図記号が制定された。
- エ より大きな地震は来ないという印象を与えてしまうことで防災意識が低下することなどを心配し、現在は「余震」という表現を使用しなくなっている。

- 問 9 下線部⑨について、2021 年 12 月、三陸沿岸道路が仙台市～八戸市の全線で開通しました。この三陸沿岸道路の海側には次の写真のような階段が設けられているところがありますが、その目的を説明しなさい。



### 3月23日(水) 電力逼迫 停電は回避

東京電力と東北電力管内で 22 日、電力の需給が逼迫し、⑩大規模停電が発生しかねない事態となりました。しかし、政府による「電力需給逼迫警報」を受けて、⑪東京スカイツリーが夜間のライトアップを取りやめるなど、さまざまな節電の取り組みにより大規模停電は何とか回避されました。皆様のご家庭では節電に協力しましたか。

今回そもそも電力の需給が逼迫した原因は何なのでしょう。なぜ電力が少し足りないだけで大規模な停電が生じてしまう可能性があるのでしょうか。また、停電を避ける最後の砦ともいわれた(⑫)発電とはどのような発電方法なのでしょう。確認してみてください。

- 問 10 下線部⑩は、2018 年 9 月に起きた北海道胆振東部地震の後に北海道全域で発生しました。この時のように需要と供給のバランスが急激に崩れたことで発生する、予期せぬ広域での全面停電を一般に何といいますか。カタカナで答えなさい。

- 問 11 下線部⑪について、東京スカイツリーは開業から 2022 年で 10 年を迎えました。東京スカイツリーが位置する区の説明としてふさわしいものを、次のア～エから 1 つ選び、記号で答えなさい。

- ア 東京 23 区のうち、人口がもっとも多い。
- イ 世界文化遺産の国立西洋美術館本館がある。
- ウ 隅田川と荒川にはさまれた地域にある。
- エ 日光道中の宿場町のひとつである千住宿があった。

問 12 空欄 ( ⑫ ) にあてはまる語句を、次の文を参考にして漢字 2 字で答えなさい。

これは水力発電の一種である。発電所の上部と下部に大規模な調整池をつくり、電力消費の少ない夜間に上部の調整池へ水をくみ上げておき、電力消費の多い昼間に上部の調整池から下部の調整池へ水を落として発電をおこなっている。

3 月 31 日 ( 木 ) 基礎からわかる「18 歳成人」

4 月 1 日に成人年齢を 20 歳から 18 歳に引き下げる改正 ( ⑬ ) が施行され、約 230 万人が一斉に成人となります。成人になると、自分の意思でローン契約を結んだり、クレジットカードを作ったりすることができるようになります。しかし、未成年者であれば保護者の同意のない契約はのちに取り消すことができますが、成人になるとそうした保護は受けられません。自分の意思で選択できるが増える一方、大人としての自覚と責任が求められます。記事では法改正の背景や変更点、注意したい点などがまとめられているので、読み進めてみましょう。( ⑭ ) は 20 歳からに据え置かれます。

問 13 空欄 ( ⑬ ) にあてはまる法律の名前を漢字で答えなさい。

問 14 空欄 ( ⑭ ) にあてはまる内容を、次のア～オからすべて選び、記号で答えなさい。

- ア 飲酒      イ 裁判員の選任      ウ 結婚  
エ 喫煙      オ 介護保険の加入

## 4月2日（土）ドバイ万博 閉幕

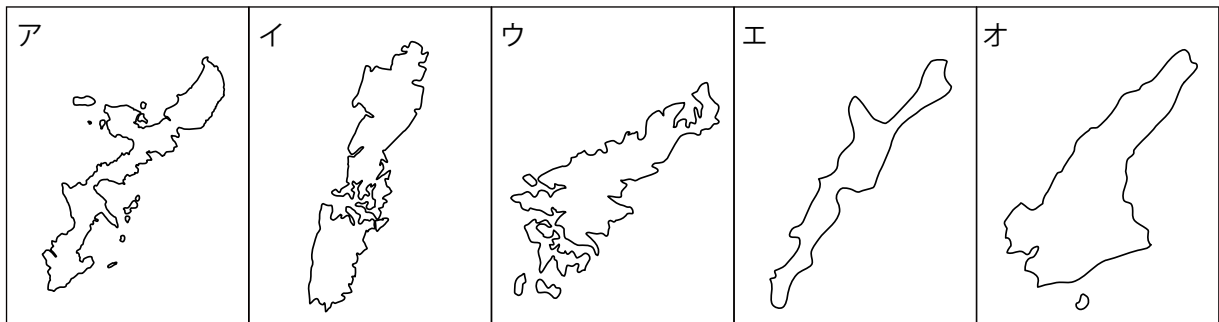
アラブ首長国連邦（UAE）で2021年10月から開かれていたドバイ国際博覧会（万博）が3月31日閉幕しました。次回の⑤2025年大阪・関西万博を所管する若宮万博担当大臣、大阪府の吉村洋文知事が閉幕式に出席し、UAEから万博旗を引き継ぎました。

「いのち<sup>かがや</sup>く未来社会のデザイン」をテーマにおこなわれる2025年の万博ではどのような未来<sup>えが</sup>が描かれるのでしょうか。周囲の人といっしょに想像してみましょう。

問 15 下線部⑤に関連して、日本で行われた万博とそのテーマについて表にしてみました。これについて、あとの(1)～(3)の問いに答えなさい。

開催年	名称（略称）	テーマ	来場者数
1970	大阪万博	人類の進歩と調和	6422万人
1975	【 A 】海洋博	海—その望ましい未来	349万人
1985	【 B 】科学万博	人間・住居・環境と科学技術	2033万人
1990	大阪花博	自然と人間との共生	2312万人
2005	【 C 】万博	自然の叡智 <sup>えいち</sup>	2205万人
2025 予定	大阪・関西万博	いのち輝く未来社会のデザイン	

(1) 表中【 A 】にあてはまる地名を含む地図としてふさわしいものを、次のア～オから1つ選び、記号で答えなさい。なお、地図はいずれも上が北を示し、縮尺は同じとはかぎりません。



(2) 表中【 B 】にあてはまる地名を、次の文を参考に、ひらがなで答えなさい。

教育機関や研究機関が多く集まる研究学園都市として1960年代から開発が進み、近年、都心とのアクセスが向上したこともあり、現在人口増加を続けている県内第2の都市である。

(3) 表中【 C 】にあてはまる県に関して、次のⅠ～Ⅲは、ある産品の都道府県別順位です。Ⅰ～Ⅲの産品の組み合わせとしてふさわしいものを、あとのア～カから 1 つ選び、記号で答えなさい。

Ⅰ：1 位 鹿児島県      2 位【 C 】県      3 位 宮崎県      (2019 年)

Ⅱ：1 位 長野県      2 位【 C 】県      3 位 北海道      (2020 年)

Ⅲ：1 位 北海道      2 位 埼玉県      3 位【 C 】県 (2020 年)

	ア	イ	ウ	エ	オ	カ
Ⅰ	ブロッコリー	ブロッコリー	うなぎ	うなぎ	カーネーション	カーネーション
Ⅱ	カーネーション	うなぎ	カーネーション	ブロッコリー	うなぎ	ブロッコリー
Ⅲ	うなぎ	カーネーション	ブロッコリー	カーネーション	ブロッコリー	うなぎ

(ブロッコリーは収穫量、カーネーションは出荷量、うなぎは収穫量)  
公益財団法人矢野恒太記念会「データでみる県勢 2022」より

#### 5月5日(木) 子供人口1465万人

総務省が5日の「こどもの日」に合わせ、15歳未満の子供の推計人口(4月1日現在)を発表しました。前年より25万人少ない1465万人で、41年連続の減少となっています。22年ぶりに全都道府県で減少しており、⑯少子化の全国的な進展や、新型コロナウイルス感染拡大による影響の大きさが浮き彫りになりました。

問 16 下線部⑯について、少子化に関して説明した次のⅠ・Ⅱの正誤の組み合わせとしてふさわしいものを、あとのア～エから 1 つ選び、記号で答えなさい。

- Ⅰ 2020年度の育休取得率が12.65%にとどまる男性の育児参加を促すため、企業には子どもが生まれる従業員に育児休業制度を説明し、取得の意向を確認することが義務づけられている。
- Ⅱ 2021年の出生数は約84万となり、統計を取り始めて以降、過去最少を更新したが、幼児教育・保育の無償化などにもない、近年の合計特殊出生率は上昇傾向にある。

ア Ⅰ：正 Ⅱ：正      イ Ⅰ：正 Ⅱ：誤      ウ Ⅰ：誤 Ⅱ：正      エ Ⅰ：誤 Ⅱ：誤



**5月7日(土) 0.01%の声 届けるため**

目の不自由な人が点字器を使い、専用の⑰投票用紙に政党名や候補者名を打ち込んでおこなう点字投票という投票方法があります。日本の点字投票の導入は1920年代にさかのぼり、世界ではじめて国政選挙に取り入れたことでも知られています。このような点字投票で使用できる文字の一覧表が、この4月、約70年ぶりに更新され、アルファベットや外国語表記で用いるカタカナが加わりました。これも⑱多様な声を国政に届ける投票方法のひとつといえますね。

問17 下線部⑰について、近年の選挙で多く利用されている投票用紙は、木を原料とした「紙」ではなく、ポリプロピレン樹脂を原料としたプラスチックフィルムのような「合成紙(ユポ紙)」です。これは、ユポ紙の性質上折り目がつきづらく、折っても元に戻るので開票作業の手間が省けるからだそうです。そのほかユポ紙は「選挙ポスター」、「ハンドソープのラベル」、「飲食店のメニュー」などで用いられています。これはユポ紙にさらにどのような性質があるからだと思えますか。簡単に答えなさい。

問18 下線部⑱について、海外に長期滞在する日本人の投票に関する次の(1)・(2)の問いに答えなさい。

(1) 現在、認められているものを、次のア～カからすべて選び、記号で答えなさい。

- ア 衆議院の比例代表選挙
- イ 参議院の比例代表選挙
- ウ 衆議院の小選挙区選挙
- エ 参議院の選挙区選挙
- オ 憲法改正の国民投票
- カ 地方自治体の首長選挙

(2) 最高裁判所裁判官の国民審査をする権利は今まで認められていませんでしたが、これについて、2022年6月、最高裁判所は違憲判決を下しました。これによりどのような効果が生じるかについて述べた次のア～エの文のうち、ふさわしいものを1つ選び、記号で答えなさい。

- ア 国民審査法すべてが自動的に廃止される。
- イ 国民審査法に新たな条文が自動的に付け加わる。
- ウ 国民審査法が国会によって改正されるまでは今までと変わらない。
- エ 国民審査法が公職選挙法にとりこまれる。

## 5月11日(水) 韓国 ( ㉑ ) 大統領が就任

韓国の ( ㉑ ) 氏が第 20 代大統領に就任しました。「戦後最悪」とも称されるほど冷え込んでいる現在の日韓関係について、今後改善がなされていくのか注目です。

問 19 空欄 ( ㉑ ) にあてはまる人物の名前を、次のア～エから 1 つ選び、記号で答えなさい。

ア 尹錫悦      イ 李家超      ウ 蔡英文      エ 文在寅

## 5月16日(月) 沖縄復帰 50 年

沖縄は 15 日、㉒ 1972 年の本土復帰から 50 年を迎え、沖縄と東京の 2 会場を中継で結んで記念式典が開かれました。この 50 年で沖縄は何が変わって、何が変わらないのか、記事を参考に学習してみましょう。

問 20 下線部㉒について、次の (1) ～ (3) の問いに答えなさい。

(1) 沖縄復帰が実現した時の内閣総理大臣について説明した次の I ～ III の正誤の組み合わせとしてふさわしいものを、あとのア～カから 1 つ選び、記号で答えなさい。

- I 内閣総理大臣としての通算在職期間が戦後最長である。  
 II 日韓基本条約の締結<sup>ていけつ</sup>や日中共同声明の発表をおこなった。  
 III 非核三原則の提唱などの功績により、ノーベル平和賞を受賞した。

ア I : 正 II : 正 III : 誤      イ I : 正 II : 誤 III : 誤      ウ I : 正 II : 誤 III : 正  
 エ I : 誤 II : 正 III : 正      オ I : 誤 II : 正 III : 誤      カ I : 誤 II : 誤 III : 正

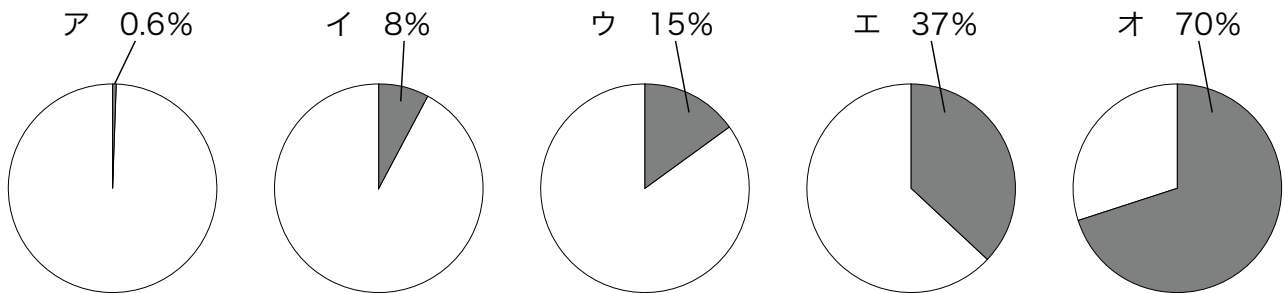
(2) 沖縄が日本に復帰した日からちょうど 40 年前に、東京の首相官邸<sup>かんてい</sup>で起きた出来事を答えなさい。

(3) 次の X～Z に関する割合を表したグラフとしてもっとも近いものを、あとのア～オから 1 つずつ選び、記号で答えなさい。

X 日本の総面積に占める沖縄県面積の割合

Y 全国のアメ리카軍専用施設面積に占める沖縄県の割合

Z 沖縄県面積に占めるアメ리카軍専用施設面積の割合



# じじもん実力テスト (夏休み版)

解答用紙	氏名	点数
------	----	----

配点 (100点満点) 問1 (2) 7点、 問9・問17 各6点、 他3点×27

注: 下線部は要完答

問1 (1)  (2)

(3)

問2    
(順不同)

問3

問4   
(漢字2字指定)

問5 (1)

(2)

問6    
(順不同)

問7

問8

問9

問10   
(カタカナ指定)

問11

問12   
(漢字2字指定)

問13   
(漢字指定)

問14   
(順不同)

問15 (1)

(2)   
(ひらがな指定)

(3)

問16

問17

問18 (1)   
(順不同)

(2)

問19

問20 (1)

(2)

(3) X:  Y:  Z: